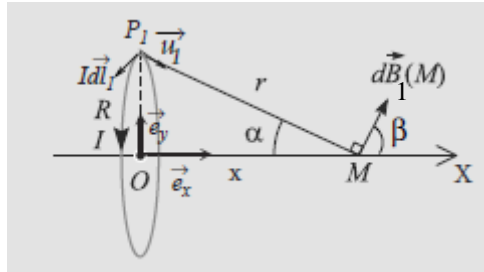


Correction TD d'électricité
Série n°2

Exercice n°1

1.)



Pour tout point P de la spire la distance PM est identique.

On considère deux éléments de la spire \vec{dl}_1 et \vec{dl}_2 situés de façon symétrique par rapport à l'axe OX, alors les champs produits \vec{dB}_1 et \vec{dB}_2 seront symétriques par rapport à l'axe.

On a : $OM = x$, $P_1M = P_2M = r$

$$\vec{dl}_1 \rightarrow \vec{dB}_1(M) = \frac{\mu_0}{4\pi} I \vec{dl}_1 \wedge \frac{\vec{P_1M}}{P_1M^3} = \frac{\mu_0}{4\pi} I \vec{dl}_1 \wedge \frac{\vec{u}_1}{r^2}$$

$$\vec{dl}_2 \text{ (Sym/O de } \vec{dl}_1) \rightarrow \vec{dB}_2(M) = \frac{\mu_0}{4\pi} I \vec{dl}_2 \wedge \frac{\vec{P_2M}}{P_2M^3} = \frac{\mu_0}{4\pi} I \vec{dl}_2 \wedge \frac{\vec{u}_2}{r^2}$$

La projection sur ox et oy :

$$\begin{aligned} \vec{dB}_1(M) &= \vec{dB}_{1x} + \vec{dB}_{1y} \\ \vec{dB}_2(M) &= \vec{dB}_{2x} + \vec{dB}_{2y} \end{aligned}$$

De plus $\|\vec{dl}_1\| = \|\vec{dl}_2\| \Rightarrow dB_{1x} = dB_{2x}$ et $dB_{1y} = dB_{2y}$

D'où

$$\vec{dB}(M) = \vec{dB}_1 + \vec{dB}_2 = (\vec{dB}_{1x} + \vec{dB}_{2x}) + (\vec{dB}_{1y} + \vec{dB}_{2y}) = 2\vec{dB}_{1x}$$

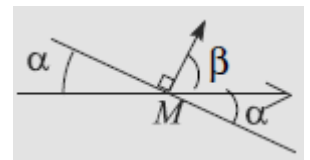
Le champ total $\vec{dB}(M)$ est porté par l'axe ox, don il reste à calculer son module B(M)

$$B(M) = 2 \int_{1/2 \text{ Spire}} dB_{1x}(M) \text{ ou } B(M) = \int_{\text{Spire}} dB_{1x}(M)$$

$$dB_{1x} = \vec{dB}_1 \vec{e}_x = dB_1 \cos \beta$$

$$\text{Donc } dB_{1x} = dB_1 \sin \alpha = \frac{\mu_0}{4\pi} I dl_1 \frac{\sin \alpha}{r^2}$$

$$\sin \alpha = R/r = \frac{R}{\sqrt{R^2 + x^2}}$$



$$\Rightarrow B(M) = 2 \frac{\mu_0}{4\pi} I \frac{\sin \alpha}{r^2} \int_0^{\pi R} dl_1 \text{ Ou encore } B(M) = \frac{\mu_0}{4\pi} I \frac{\sin \alpha}{r^2} \int_0^{2\pi R} dl_1$$

$$B(M) = \frac{\mu_0}{2R} I \sin^3 \alpha$$

En fonction de I, R et α

$$\vec{B}(M) = \frac{\mu_0}{2R} I \sin^3 \alpha \vec{e}_x$$

$$\begin{aligned} \alpha + \beta + \frac{\pi}{2} &= \pi \\ \alpha + \beta &= \frac{\pi}{2} \end{aligned}$$

Ou $\vec{B}(M) = \frac{\mu_0}{2} I \frac{R^2}{(R^2+x^2)^{3/2}} \vec{e}_x$ En fonction de x

Pour N spires identiques $\vec{B}(M) = \frac{\mu_0}{2} I \frac{NR^2}{(R^2+x^2)^{3/2}} \vec{e}_x$

2.) le champ magnétostatique au centre de la spire $x=0$. Dans l'expression de \vec{B} en fonction de x.

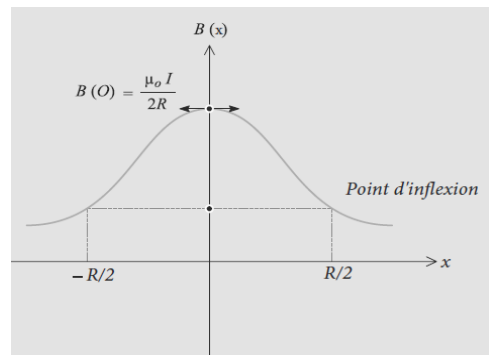
On trouve $\vec{B}(O) = \frac{\mu_0}{2R} I \vec{e}_x$ Soit $B(O) = \frac{\mu_0}{2R} I$

3.)

$B(O) = 4,18 \cdot 10^{-5} T$

4.) le graphe de $B=f(x)$

$B(x) = \frac{\mu_0}{2R} I \left(1 + \frac{x^2}{R^2}\right)^{-3/2} = B(O) \left(1 + \frac{x^2}{R^2}\right)^{-3/2}$



La $\frac{d^2B}{dx^2}$ s'annule pour $x = \pm R/2$ ce point est un point d'inflexion

$$\left(1 - 4 \frac{x^2}{R^2}\right) = 0 \Rightarrow x^2 = \frac{R^2}{4} \Rightarrow x = \pm \frac{R}{2}$$

$$A(x) = \left(1 + \frac{x^2}{R^2}\right)^{-3/2} = (1 + u^2)^{-3/2} \text{ avec } u = \frac{x}{R}$$

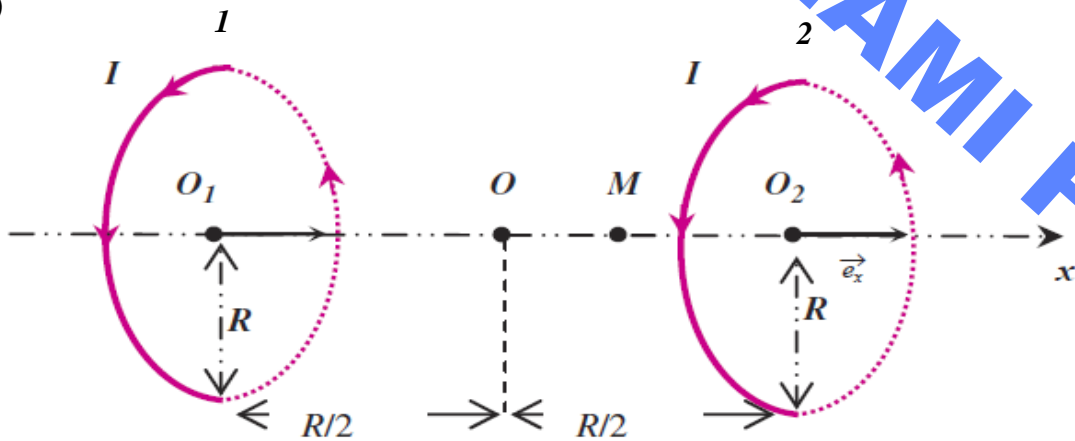
$$\frac{dA}{du} = -3u(1 + u^2)^{-5/2}$$

$$\frac{d^2A}{du^2} = -3u(1 + u^2)^{-7/2} (1 - 4u^2)$$

$$\frac{d^2A}{du^2} = 0 \Rightarrow u = \frac{1}{2}$$

Exercice n°2

1.)



Soit O le milieu de O_1O_2 . On repère un point M de l'axe par $OM=x$.

On pose

$$\begin{aligned}O_1O_2 &= R, \\ O_1O &= OO_2 = R/2 \\ O_1M &= x_1 = x + R/2 \\ O_2M &= x_2 = R/2 - x\end{aligned}$$

Le champ créé par chaque spire en M :

$$\begin{aligned}B_1(M) &= B(x_1) = B(o) \left(1 + \frac{x_1^2}{R^2}\right)^{-3/2} \\ B_2(M) &= B(x_2) = B(o) \left(1 + \frac{x_2^2}{R^2}\right)^{-3/2}\end{aligned}$$

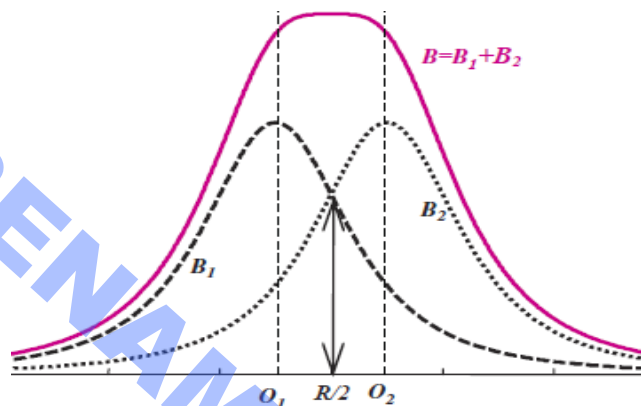
D'après l'Ex 1

Le champ créé par les deux bobines en M est obtenu par la superposition des deux champs de même direction et même sens :

$$B(M) = B_1(M) + B_2(M) = B(o) \left[\left(1 + \frac{x_1^2}{R^2}\right)^{-3/2} + \left(1 + \frac{x_2^2}{R^2}\right)^{-3/2} \right]$$

(Si $x=0$ au milieu des deux bobines, $O_1M = x_1 = O_2M = x_2 = R/2$, $B(M) = \frac{\mu_0}{R} I \left(\frac{5}{4}\right)^{-3/2}$)

2.)

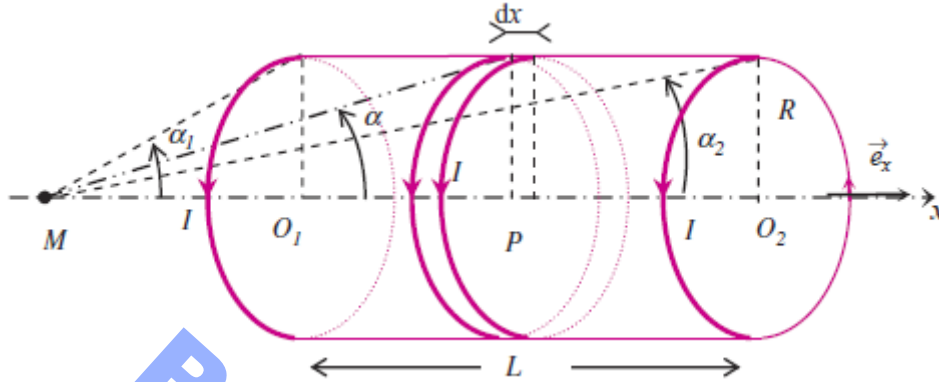


Exercice n°3

1.)

On appelle respectivement O_1 et O_2 les centres de la 1^{er} et la dernière spire du solénoïde. De même α_1 et α_2 sont respectivement les angles sous lesquels du point M on voit un rayon de la 1^{er} et la dernière spire.

Le point M est situé à gauche du solénoïde. On pose $OM=x$, $O_1M=x_1$ et $O_2M=x_2$



Une tranche de la bobine de longueur dx et de centre O contient ndx spires. Elle crée en M de l'axe OX un champ magnétique élémentaire :

$$d\vec{B}(M) = ndx \frac{\mu_0}{2R} I \sin^3 \alpha \vec{e}_x$$

Les deux variables x et α sont liées par la relation : $\text{tga} = R/x$

$$\Rightarrow x = R/\text{tga} \Rightarrow dx = -\frac{R}{\sin^2 \alpha} d\alpha$$

L'intensité du champ magnétique élémentaire s'écrit :

$$dB(M) = \frac{\mu_0}{2R} In \left(-\frac{R}{\sin^2 \alpha} \right) \sin^3 \alpha d\alpha = -\frac{\mu_0 n I}{2} \sin \alpha d\alpha$$

α varie de α_1 à α_2
Et x de x_1 à x_2

$$B(M) = \int dB(M) = -\frac{\mu_0 n I}{2} \int_{\alpha_1}^{\alpha_2} \sin \alpha d\alpha$$

$$= \frac{\mu_0 n I}{2} (\cos \alpha_2 - \cos \alpha_1)$$

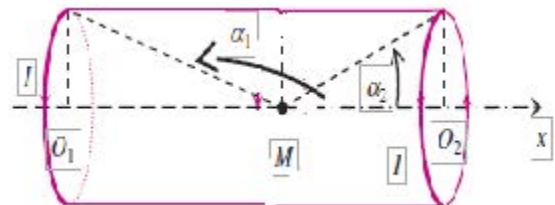
Donc $\vec{B}(M) = \frac{\mu_0 n I}{2} (\cos \alpha_2 - \cos \alpha_1) \vec{e}_x$

2-) cas du solénoïde infini

Si $L \rightarrow \infty$, le point M est forcément à l'intérieur.

Lorsque $L \rightarrow \infty$ alors $\alpha_2 \rightarrow 0$ et $\alpha_1 \rightarrow \pi$

On obtient $\vec{B}(M) = \mu_0 n I \vec{e}_x$



Rq champ est indépendant du rayon du solénoïde.