



Département de Physique

Filière SMPC : Semestre 2



Association de Lentilles

Abdelhai Rahmani

Année universitaire 2019-2020

Lentilles minces accolées:

Pour former un doublet accolé, il suffit de coller deux lentilles l'une contre l'autre. On peut alors estimer que les deux centres optiques sont approximativement confondus.

Un rayon lumineux frappe d'abord la première lentille (L_1) qui donne d'un objet AB , réel ou virtuel, une image A_1B_1 , réelle ou virtuelle. La position de cette image est donnée par la relation de conjugaison :

$$\frac{1}{OA_1} - \frac{1}{OA} = \frac{1}{f_1} = V_1$$

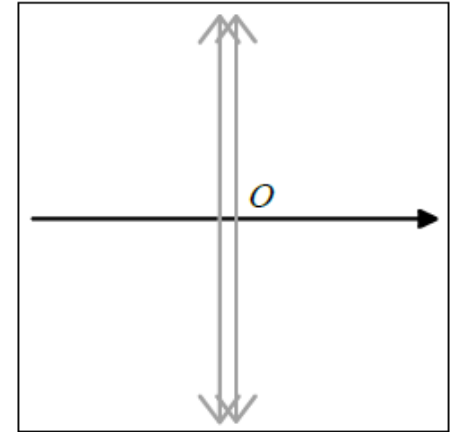
Le rayon lumineux frappe ensuite la deuxième lentille (L_2) l'image A_1B_1 sert d'objet, éventuellement virtuel, pour la lentille (L_2) qui donne l'image finale $A'B'$. La position de cette image est donnée par la relation de conjugaison:

$$\frac{1}{OA'} - \frac{1}{OA_1} = \frac{1}{f_2} = V_2$$

En additionnant, membre à membre, ces deux relations, nous obtenons la relation suivante :

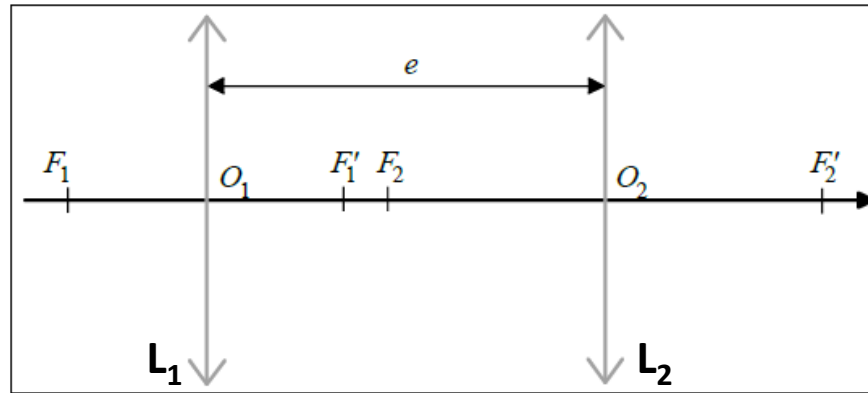
$$\frac{1}{OA'} - \frac{1}{OA} = \frac{1}{f_1} + \frac{1}{f_2} = V_1 + V_2$$

Une association de lentilles minces accolées est donc équivalente à une lentille mince de centre optique O et dont la vergence est la somme des vergences accolées

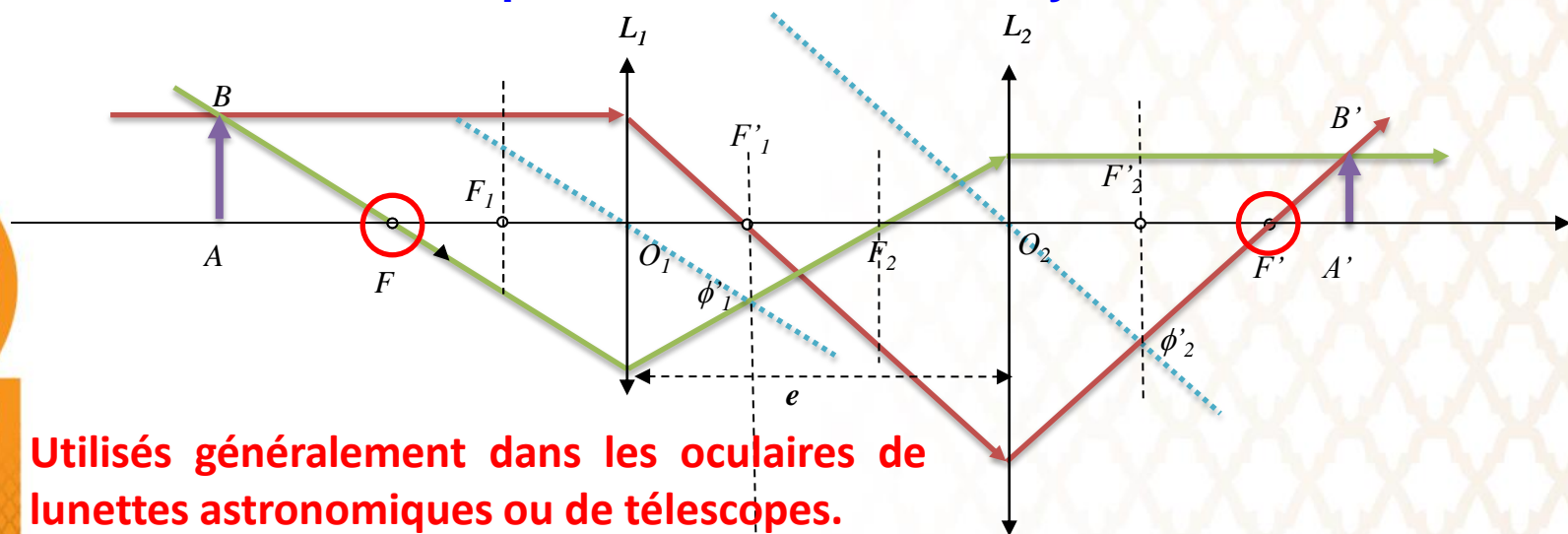


DOUBLET DE LENTILLES

Un doublet est une association de deux lentilles séparées par une distance e non nulle.



Contrairement à un système de lentilles accolées, un doublet n'est pas équivalent à une lentille mince, c'est un système épais. Cependant, c'est un système centré dont nous pouvons chercher les foyers.



Utilisés généralement dans les oculaires de lunettes astronomiques ou de télescopes.

La définition des foyers d'un système centré est toujours la même.

Pour le foyer image : $A_\infty \xrightarrow{(Doublet)} F'$ et pour le foyer objet : $F \xrightarrow{(Doublet)} A'_\infty$

Foyer image

La première lentille donne d'un point objet situé { l'infini sur l'axe optique un point image situé en son foyer image : $A_\infty \xrightarrow{(L_1)} F'_1$

La deuxième lentille donne donc du point objet F'_1 un point image situé en F' , ce qui permet de préciser le diagramme de définition du foyer image du doublet :

$$A_\infty \xrightarrow{(L_1)} F'_1 \xrightarrow{(L_2)} F'$$

La relation de conjugaison, appliquée à la deuxième lentille, permet de situer le

foyer image F' du doublet : $\frac{1}{O_2 F'} - \frac{1}{O_2 F'_1} = \frac{1}{O_2 F'_2} \Rightarrow \frac{1}{O_2 F'} = \frac{1}{O_2 F'_1} + \frac{1}{O_2 F'_2}$

$$\text{avec } \overline{O_2 F'_1} = \overline{O_2 O_1} + \overline{O_1 F'_1} = \overline{O_1 F'_1} - \overline{O_1 O_2} = f'_1 - e$$

Foyer objet

Le diagramme complet de définition du foyer objet du doublet se présente maintenant de cette façon : $F \xrightarrow{(L_1)} ? \xrightarrow{(L_2)} A'_\infty$

La deuxième lentille donne d'un point objet situé en son foyer objet un point image situé à l'infini sur l'axe. Donc, le point d'interrogation est en fait le foyer objet de la deuxième lentille : $F \xrightarrow{(L_1)} F_2 \xrightarrow{(L_2)} A'_\infty$

La relation de conjugaison de Descartes, appliquée à la première lentille, permet de situer le foyer objet F du doublet :

$$\frac{1}{\overline{O_1 F_2}} - \frac{1}{\overline{O_1 F}} = \frac{1}{\overline{O_1 F'_1}} \Rightarrow \frac{1}{\overline{O_1 F}} = \frac{1}{\overline{O_1 F_2}} - \frac{1}{\overline{O_1 F'_1}}$$

$$\text{avec } \overline{O_1 F_2} = \overline{O_1 O_2} + \overline{O_2 F_2} = \overline{O_1 O_2} - \overline{O_2 F'_2} = e - f'_2$$

DOUBLET AFOCAL

Lorsque les foyers sont rejetés à l'infini, le doublet est dit afocal.

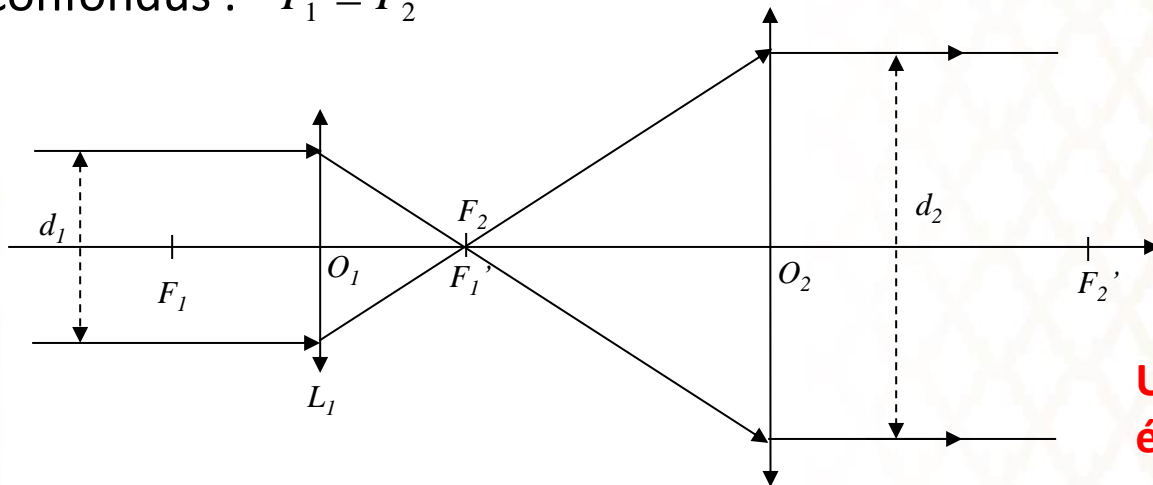
Le diagramme de définition du foyer image devient :

$$A_{\infty} \xrightarrow{(L_1)} F'_1 \xrightarrow{(L_2)} A'_{\infty}$$

tandis que le diagramme de définition du foyer objet devient :

$$A_{\infty} \xrightarrow{(L_1)} F_2 \xrightarrow{(L_2)} A'_{\infty}$$

La comparaison de ces deux diagrammes permet de conclure que F'_1 et F_2 doivent être confondus : $F'_1 \equiv F_2$



$$\frac{d_2}{d_1} = \frac{|O_2 F'_2|}{|O_1 F'_1|}$$

Utilisé généralement comme élargisseur de faisceau.

DOUBLET AFOCAL

Lorsque les foyers sont rejetés à l'infini, le doublet est dit afocal.

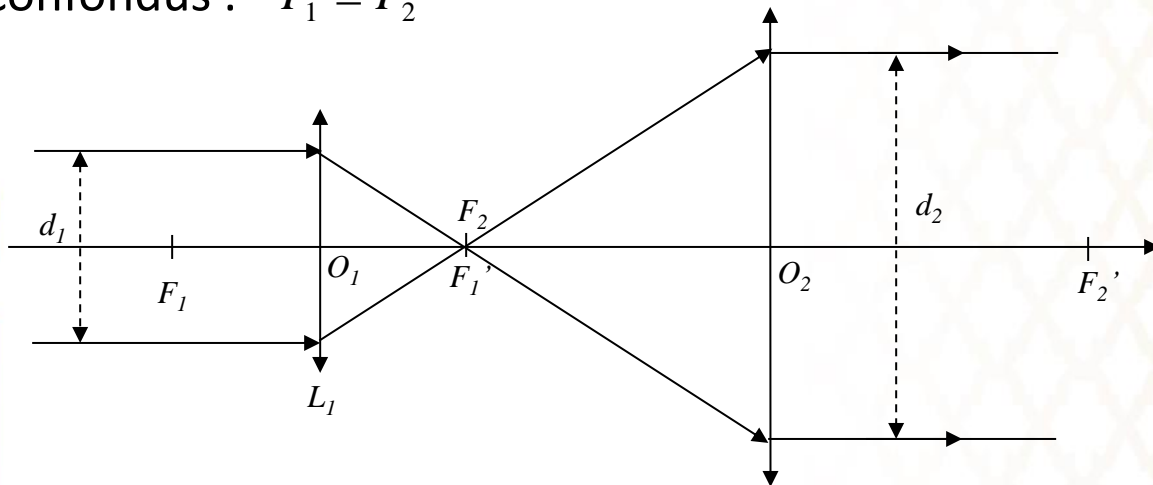
Le diagramme de définition du foyer image devient :

$$A_{\infty} \xrightarrow{(L_1)} F'_1 \xrightarrow{(L_2)} A'_{\infty}$$

tandis que le diagramme de définition du foyer objet devient :

$$A_{\infty} \xrightarrow{(L_1)} F_2 \xrightarrow{(L_2)} A'_{\infty}$$

La comparaison de ces deux diagrammes permet de conclure que F'_1 et F_2 doivent être confondus : $F'_1 \equiv F_2$



$$\frac{d_2}{d_1} = \frac{|O_2 F'_2|}{|O_1 F'_1|}$$

On considère l'association de deux lentilles convergente L_1 et L_2 .

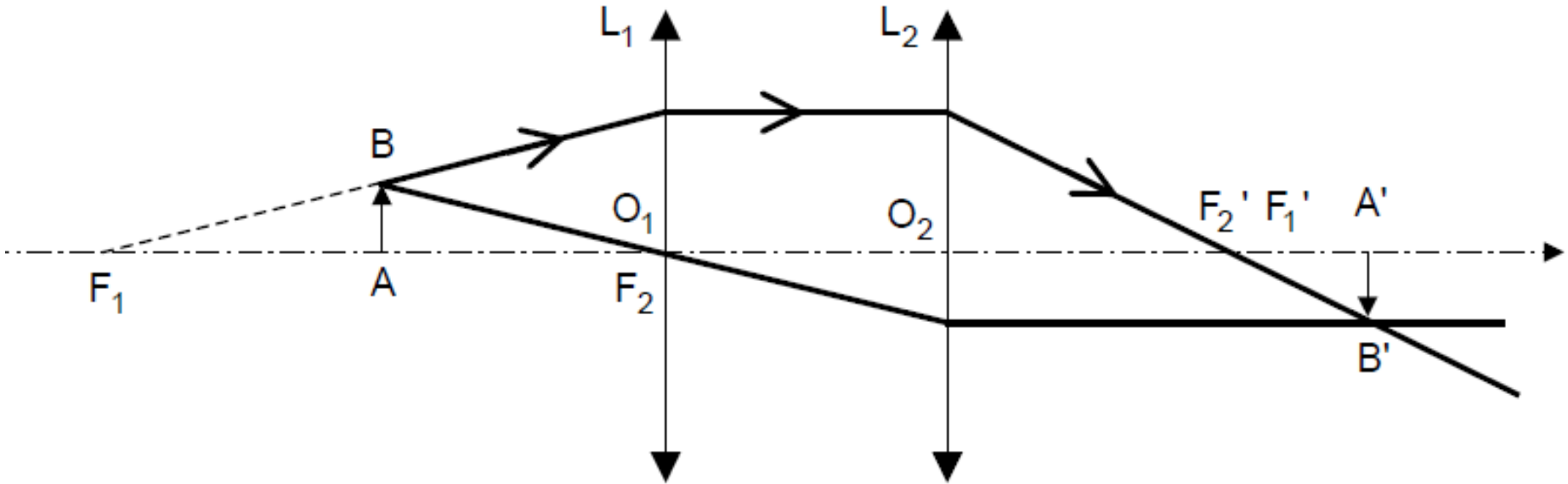
1. Construire géométriquement l'image $A'B'$ de l'objet AB (de hauteur $l=1\text{cm}$ et placé à 4 cm devant O_1) à travers le système optique (L_1+L_2) où $f_1' = 2f_2' = 8\text{cm}$ et $O_1O_2=4\text{cm}$.
2. Déterminer la position de l'image $A'B'$
3. Exprimer le grandissement de ce montage,

On considère l'association d'une lentille divergente L_1 et d'une lentille convergente L_2 accolée à L_1

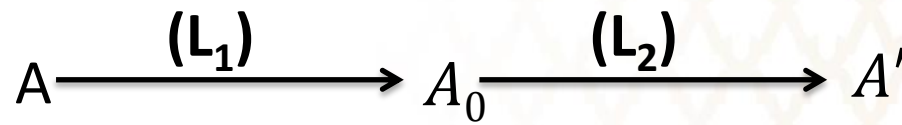
1. Construire géométriquement l'image $A'B'$ de l'objet AB (placé à 16 cm devant O_1) à travers le système optique décrit sur la figure, où $f_1'=-2f_2'=-8\text{cm}$ et $O_1O_2 = 0\text{cm}$.
2. Déterminer la position de l'image $A'B'$
3. Exprimer le grandissement de ce montage,

EXERCICES D'APPLICATIONS

$AB = 1\text{cm}$, $O_1A = 4$, $f_1' = O_1 F_1' = 8\text{cm}$, $f_2' = O_2 F_2' = 4\text{cm}$ et $O_1O_2 = 4\text{cm}$.



Le diagramme de définition de l'image $A'B'$ de l'objet AB à travers le doublet (L_1, L_2) se présente comme suit :



EXERCICES D'APPLICATIONS

Pour une construction à l'échelle, on mesure $\overline{O_2 A'} = 6 \text{ cm}$.

La position de l'image A_0 de A par la lentille L_1 est donnée par la relation de conjugaison :

$$\frac{1}{\overline{O_1 A_0}} - \frac{1}{\overline{O_1 A}} = \frac{1}{f'_1}.$$

On en déduit : $\overline{O_1 A_0} = -8 \text{ cm}$.

La position de l'image A' de A_0 par la lentille L_2 est donnée par la relation de conjugaison :

$$\frac{1}{\overline{O_2 A'}} - \frac{1}{\overline{O_2 A_0}} = \frac{1}{f'_2}.$$

Sachant que $\overline{O_2 A_0} = -12 \text{ cm}$ on déduit $\overline{O_2 A'} = 6 \text{ cm}$.

Le grandissement s'écrit :

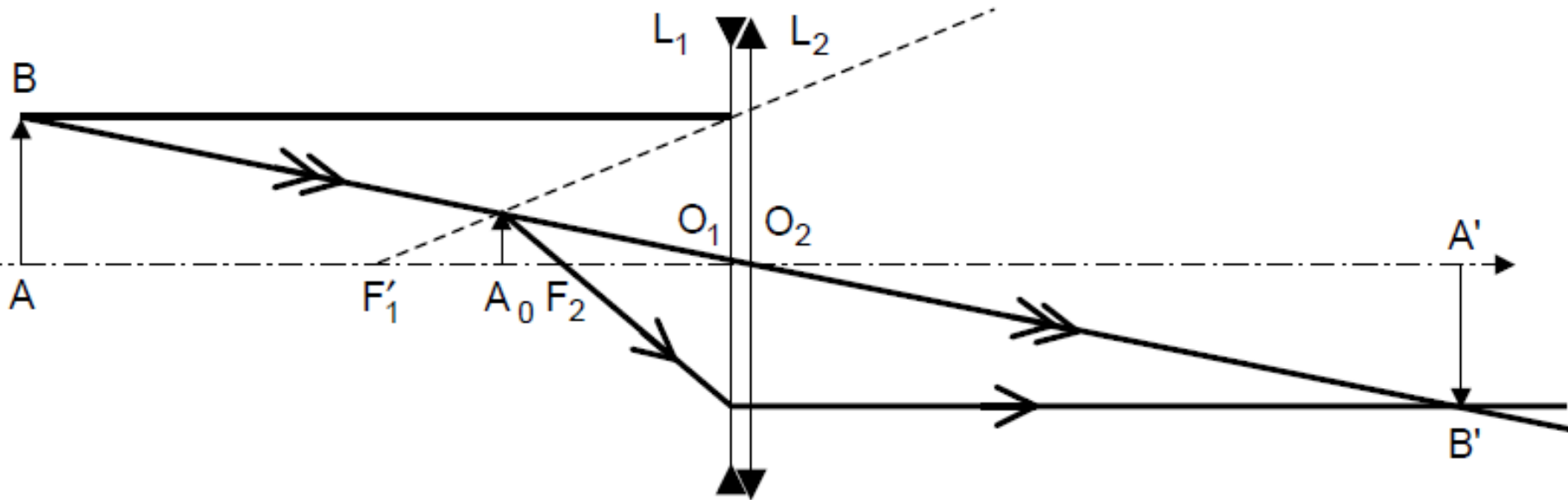
$$\gamma = \frac{\overline{A'B'}}{\overline{AB}} = \frac{\overline{A'B'}}{\overline{A_0 B_0}} \frac{\overline{A_0 B_0}}{\overline{AB}} = \gamma_2 \gamma_1.$$

Avec $\gamma_2 = -0,5$ et $\gamma_1 = 2$, on obtient :

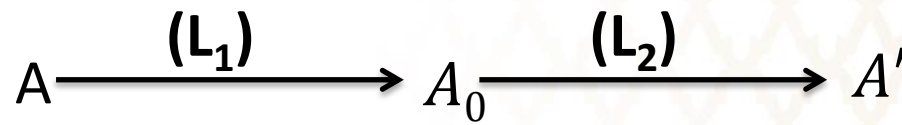
$$\gamma = -1.$$

EXERCICES D'APPLICATIONS

$O_1A = 16 \text{ cm}$, $f_1' = O_1 F_1' = -8 \text{ cm}$, $f_2' = O_2 F_2' = 4 \text{ cm}$ et $O_1O_2 = 0 \text{ cm}$.



Le diagramme de définition de l'image A'B' de l'objet AB à travers le doublet (L₁,L₂) se présente comme suit :



EXERCICES D'APPLICATIONS

On commence par déterminer la position de l'image A_0 de A par la lentille L_1 , puis on construit l'image A' de A_0 par la lentille L_2 . Les lentilles sont accolées et donc $O_1 \equiv O_2 \equiv O$.

Pour une construction à l'échelle, on mesure $\overline{OA'} = 16 \text{ cm}$.

La position de l'image A_0 de A par la lentille L_1 est donnée par la relation de conjugaison :

$$\frac{1}{\overline{OA_0}} - \frac{1}{\overline{OA}} = \frac{1}{f'_1}.$$

La position de l'image A' de A_0 par la lentille L_2 est donnée par la relation de conjugaison :

$$\frac{1}{\overline{OA'}} - \frac{1}{\overline{OA_0}} = \frac{1}{f'_2}.$$

En sommant ces deux relations, on obtient :

$$\frac{1}{\overline{OA'}} - \frac{1}{\overline{OA}} = \frac{1}{f'_2} + \frac{1}{f'_1}$$

On déduit $\overline{OA'} = 16 \text{ cm}$.

Le grandissement s'écrit :

$$\gamma = \frac{\overline{A'B'}}{\overline{AB}} = \frac{\overline{OA'}}{\overline{OA}}.$$

Donc $\gamma = -1$